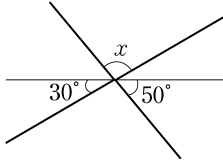


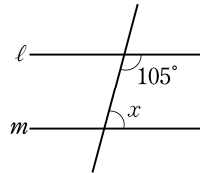
17	平行と合同	クラス	氏名	得点
	平行線と角①			点

1 次の図で、 $\angle x$ の大きさを求めなさい。ただし、②～④では、 $l \parallel m$ とする。

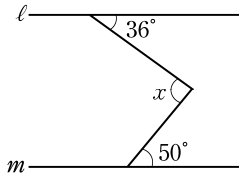
①



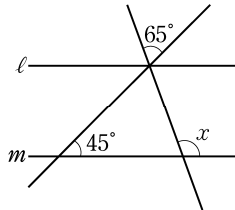
②



③



④



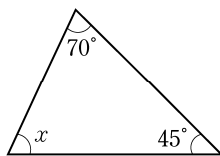
1

(各12点×4)

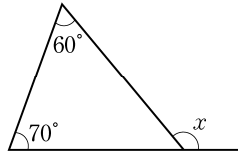
①	
②	
③	
④	

2 次の図で、 $\angle x$ の大きさを求めなさい。

①



②

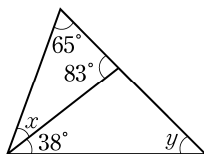


2

(各12点×2)

①	
②	

3 次の図で、 $\angle x$, $\angle y$ の大きさを求めなさい。



3

(各14点×2)

$\angle x$
$\angle y$