

18	平行と合同	クラス	氏名	得点
	平行線と角②			点

1 次の問いに答えなさい。

① 六角形の内角の和は何度ですか。

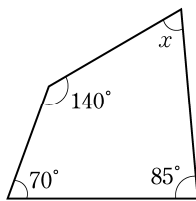
1 (各13点×2)

①	
②	

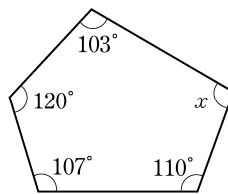
② 正九角形の1つの内角の大きさは何度ですか。

2 次の図で、 $\angle x$ の大きさを求めなさい。

①



②

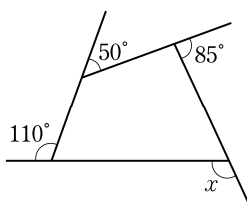


2 (各15点×2)

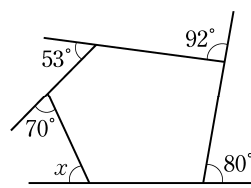
①	
②	

3 次の図で、 $\angle x$ の大きさを求めなさい。

①



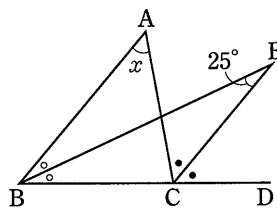
②



3 (各15点×2)

①	
②	

4 右の図で、同じ印をつけた角の大きさが等しいとき、 $\angle x$ の大きさを求めなさい。



4 (14点)

--