

平成 22 年度

県立高等学校入学者選抜学力検査問題

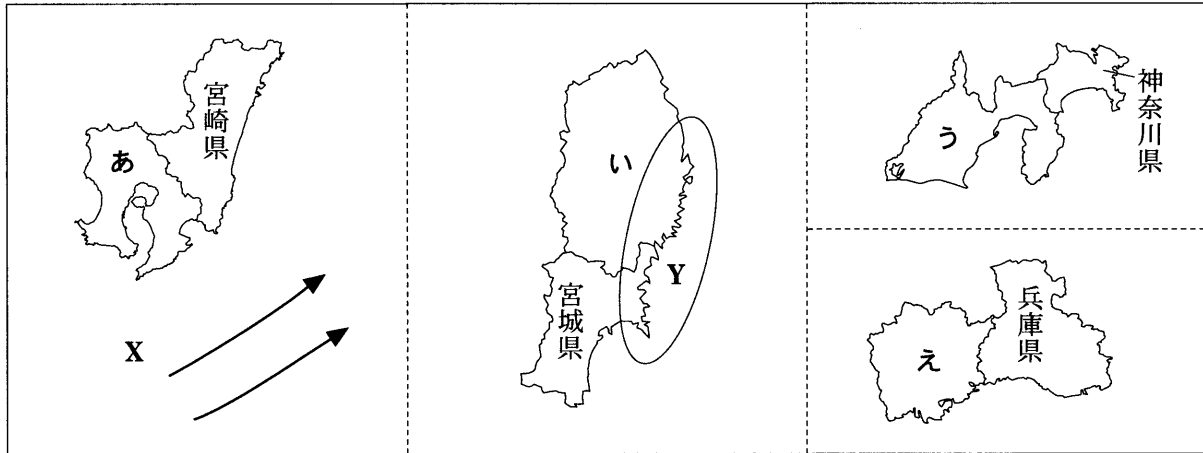
検査 1 社 会

9 : 30 ~ 10 : 20

注 意

- 1 監督の先生の指示があるまで、開いてはいけません。
- 2 問題は、6 ページあります。
- 3 「開始」の合図があったら、はじめなさい。
- 4 答えは、すべて、解答用紙に記入しなさい。
- 5 「終了」の合図で、すぐ筆記用具をおき、解答用紙を裏返しにしなさい。
- 6 その他、監督の先生の指示に従いなさい。

1 次の地図をみて、あとの問いに答えなさい。



- (1) 地図のあ～えの県について、県名と県庁所在地名が異なるものを1つ選び、記号と県庁所在地名を書きなさい。
- (2) 地図のXの矢印はここを流れている海流を表している。この海流名を書きなさい。また、この海流は暖流と寒流のどちらか、解答欄の適切な方を○で囲みなさい。
- (3) 地図のYの地域の海岸線にみられる特徴を書きなさい。
- (4) 次の資料1～5は地図の宮崎県、宮城県、神奈川県、兵庫県に関するものである。資料のA県～D県はそれぞれ同じ県である。A県～D県の県名を書きなさい。

資料1 各県の説明

A 県	B 県	C 県	D 県
・水田が多く稲作がさかんである。 ・水揚げ量の多い港がいくつもある。	・大きな工業地帯がある。 ・北部では畜産がさかんである。	・人口密度が、全国3位である。 ・近郊農業が発達している。	・畜産や促成栽培がさかんである。 ・県民所得に占める第1次産業の比率が高い。

資料2 農業産出額と農産物(2007年)

	農業産出額 [億円]	農業産出額に占める割合[%]		
		米	野菜	畜産
A 県	1,832	43.3	14.9	35.5
B 県	1,431	30.7	25.4	34.0
C 県	759	5.3	52.3	22.4
D 県	3,078	5.8	21.7	57.1
富山県	624	71.0	6.3	13.9

(農林水産省「平成19年生産農業所得統計」より作成)

資料4 工業出荷額(2006年)

	[億円]
A 県	38,359
B 県	145,286
C 県	202,407
D 県	13,417
富山県	37,455

(「日本国勢図会 2009/10」より作成)

資料3 海面漁業漁獲量(2007年)

	[100 t]
A 県	2,683
B 県	536
C 県	517
D 県	1,076
富山県	461

(農林水産省「平成19年漁業・養殖業生産統計」より作成)

資料5 人口密度(2008年)

	[人/km <sup>2</sup> ]
A 県	321
B 県	665
C 県	3,691
D 県	147
富山県	259

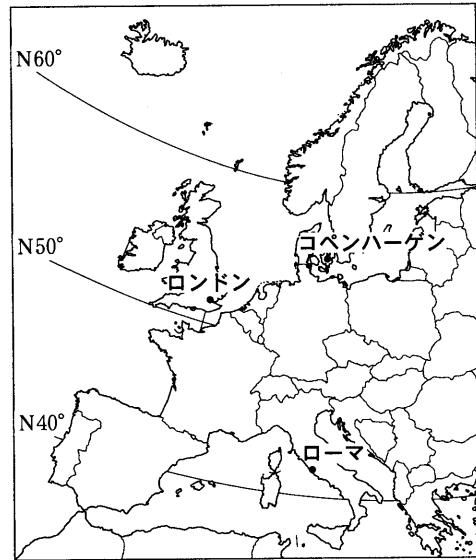
(「日本国勢図会 2009/10」より作成)

2 ある人のヨーロッパ旅行に関する次の文を読んで、あとの問いに答えなさい。

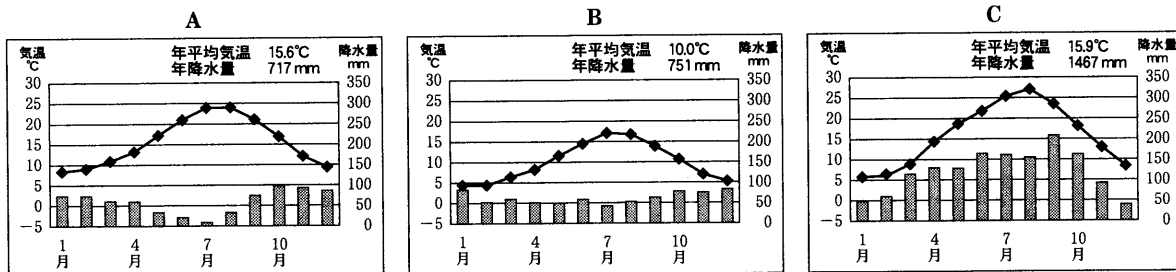
3月10日に成田空港を出発して、ロンドンに到着した。3日間、ロンドン市内や近郊の観光をして、デンマークのコペンハーゲンへ向かった。コペンハーゲンでは2日間の市内観光や友人宅の訪問をした後、イタリアで3日間、ローマの市内観光やナポリ近郊のポンペイ遺跡(注)の見学、サッカー観戦をして帰国した。

(注) ポンペイ遺跡 ベズビオ山の噴火による火山灰で地中に埋もれた町の遺跡。

- (1) 成田空港を3月10日午前10時に出発した飛行機は、13時間で、イギリスのロンドン近郊の空港に到着した。到着した時のロンドンの現地時刻は、何月何日の何時か、午前・午後の区別も入れて書きなさい。
- (2) 東京、ロンドン、ローマを緯度の高い順に並べたときに、適切なものをア～ウから1つ選び、記号を書きなさい。  
 ア 東京 — ロンドン — ローマ  
 イ ロンドン — 東京 — ローマ  
 ウ ロンドン — ローマ — 東京
- (3) 資料1のA～Cのグラフは、東京、ロンドン、ローマの年間の気温と降水量を表したものである。あとの問いに答えなさい。




資料1 月別の気温と降水量



(「理科年表」21年度より作成)

- ① ローマに該当するものをA～Cから1つ選び、記号を書きなさい。
  - ② ローマの夏の気候の特徴をロンドンと比べて説明しなさい。
- (4) コペンハーゲンの空港に近づいた時、海上に資料2のような施設が見られた。デンマークではこのような施設が国内の多くの場所に設置されている。その理由を次の2つの語を使って書きなさい。

資料2



[ エネルギー 環境 ]

- (5) イタリアはヨーロッパの中で地震が多い国である。その理由について説明した次の文中の  に入る適切な語を書きなさい。

イタリアの半島は、 造山帯とよばれるヨーロッパからアジアにのびるけわしい山々がつらなり、火山が多く、地下の活動が活発で大地が不安定なところだから

3 資料1～5について、次の問いに答えなさい。

- (1) 資料1のAは広隆寺の仏像であり、Bは新羅<sup>シルラ</sup>の仏像である。2つの仏像が似ていることに着目して、仏教文化がわが国にどのように伝わったか、次の3つの語を使って説明しなさい。

[ 渡来人    インド    朝鮮半島 ]

- (2) 資料2は京都の宇治にある寺院である。これがつくられたころの文化の特徴的なものとして適切なものを次のX群のA～Eから1つ選び、記号を書きなさい。また、それに関連する人物をY群のあ～えから1つ選び、記号を書きなさい。

【X群】

A かな文字    B 禅宗    C 水墨画    D 茶の湯

【Y群】

あ 千利休    い 道元    う 雪舟    え 紀貫之


- (3) 資料3は中国、朝鮮沿岸で活動した海賊の様子を描いたものである。当時の貿易に関する次の文中の  ,  に入る適切な語を書きなさい。

將軍足利義満は、海賊である  を取り締まり、正式な貿易船には明からあたえられた  という合い札を用いて日明貿易を始めた。

- (4) 資料4に描かれている南蛮人の来航が盛んになった背景には、ヨーロッパ人による新航路開拓がある。このうち1498年、喜望峰を経由してインドに到達した人物名を書きなさい。
- (5) 資料5の扇形の埋立地がつくられたころの交易について、適切でないものを次のA～Eから1つ選び、記号を書きなさい。

- A 松前藩がアイヌと交易を行っていた。  
 B 対馬藩が中国と交易を行っていた。  
 C 薩摩藩<sup>りゅうきゅう</sup>が琉球と交易を行っていた。  
 D 琉球<sup>りゅうきゅう</sup>が中国と交易を行っていた。

資料5



資料1




資料2



資料3



資料4



4 右の年表をみて、あとの問いに答えなさい。

(1) 下線部(a)~(c)のできごとやことばについて、次の問いに答えなさい。

① (a)日米和親条約の締結によって、開かれた日本の港を次のア~エから2つ選び、記号を書きなさい。

- ア 函館           イ 神奈川
- ウ 下田           エ 長崎

② (b)徴兵令の内容を書きなさい。

③ (c)日英間の条約改正によって不平等条約の一部改正が行われた。改正の内容を1つ書きなさい。

(2) 年表中のAの期間のできごとについて、次の問いに答えなさい。

① 次のア~エの政治に関するできごとを年代の古い順に並べなさい。

- ア 内閣制度の創設
- イ 西南戦争の開始
- ウ 国会開設を約束
- エ 民撰議院設立建白書の提出

② この時期の産業に関するできごとで、適切でないものを次のア~エから1つ選び、記号を書きなさい。

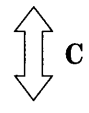
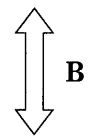
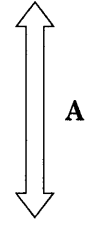
- ア 富岡製糸場が官営工場としてつくられた。
- イ 官営の八幡製鉄所が建設された。
- ウ 飛脚にかわる郵便制度がはじまった。
- エ 鉄道が、新橋・横浜間に開通した。

(3) 年表中のBの期間のできごととして、適切なものを次のア~エから2つ選び、記号を書きなさい。


- ア 孫文を臨時大総統とする中華民国が成立した。
- イ 朝鮮の江華島沖で日本の軍艦が砲撃された。
- ウ ロシア・ドイツ・フランスによる三国干渉により、日本は遼東半島を清に返還した。
- エ 満州に軍隊を送るなど勢力を強めたロシアに対抗するため日英同盟が結ばれた。

(4) 年表中のCの期間の日本経済の様子を、あとの資料1・資料2を参考にして、次の3つの語を使って書きなさい。[ 好景気   工業   貿易 ]

年代	おもなできごと
1854	(a)日米和親条約の締結
1871	廃藩置県の実施
1873	(b)徴兵令の公布
1889	大日本帝国憲法の発布
1894	(c)日英間の条約改正 日清戦争の開始
1904	日露戦争の開始
1914	第一次世界大戦の開始
1919	ベルサイユ条約の調印

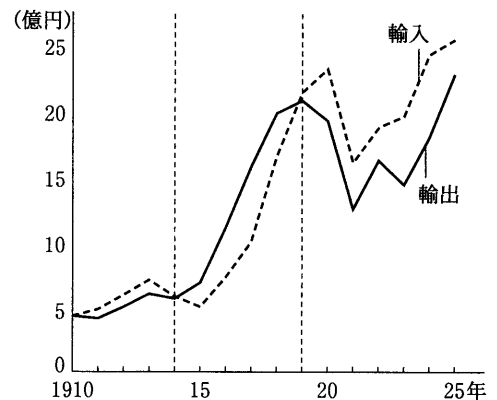


資料1 生産額と産業構造の変化



(「日本資本主義発達史年表」より作成)

資料2 日本の輸出・輸入の変化



(「貿易年表」などより作成)

5 次の文を読んで、あとの問いに答えなさい。

裁判所は(a)国会や内閣などほかの機関から独立しており、裁判官は自分の良心と憲法・法律によってのみ裁判を行う。裁判所には(b)最高裁判所と下級裁判所があり、(c)裁判では、慎重に審理を行うため(d)三審制がとり入れられている。

近年、裁判に時間や費用がかかり、国民にわかりにくいなどという問題点に対し、(e)司法制度改革が進められている。

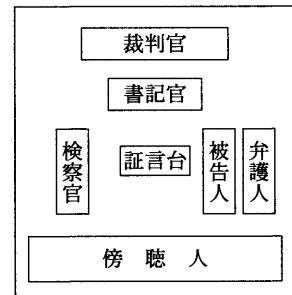
- (1)(a)国会や内閣の関係について、次の文の  ~  に入る適切な語を書きなさい。

わが国では、内閣は国会の信任に基づいて成立し、国会に対して責任を負うという  制をとっている。たとえば、衆議院で  決議が可決されると、内閣は衆議院を  するか総辞職しなければならない。

- (2)(b)最高裁判所は、「憲法の番人」とよばれている。その理由を書きなさい。

- (3)(c)裁判について、右図は、ある法廷の様子である。このような法廷で行われる裁判の例として最も適切なものを次のア～エから1つ選び、記号を書きなさい。

図 法廷の様子



- ア 空港の建設工事中の中止を求める裁判
- イ 欠陥商品によるケガの治療費を求める裁判
- ウ 親族間の遺産相続の配分をめぐる裁判
- エ 振り込め詐欺事件の有罪・無罪をめぐる裁判

- (4)(a)三審制について、次の文中の ,  に入る適切な語を書きなさい。

第一審の判決に不服があれば、 することができ、第二審の判決に不服の場合は、さらに上級の裁判所に  することができる。

- (5)(e)司法制度改革の一環として、2009年5月から実施された国民が裁判官といっしょに裁判の審理や評決に加わる制度を何というか書きなさい。

6 次の文を読んで、あとの問いに答えなさい。

企業を経営する使用者との関係では弱い立場にある労働者の人権を守るため、わが国では労働三法が定められている。このうち  法においては、労働時間や休日、賃金などの労働条件の最低基準が定められている。また、労働組合法においては、労働者の(a)労働組合を結成する権利や賃金、労働時間などの労働条件について(b)使用者と交渉する権利などについて具体的に定められている。これらに加えて、1980年代には男女雇用機会均等法が定められるなど、(c)働く女性のための環境の整備にも取り組まれている。

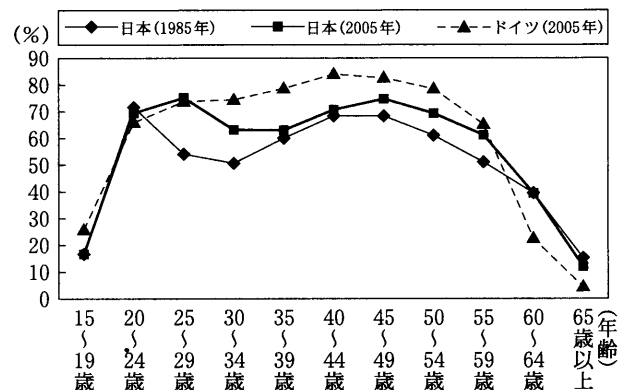
- (1) 文中の  に入る適切な語を書きなさい。

- (2)(a)労働組合を結成する権利、(b)使用者と交渉する権利は労働基本権(労働三権)のいずれにあたるか、それぞれ書きなさい。

- (3)(c)働く女性について、右の資料をみて、次の問いに答えなさい。

- ① 1985年と2005年の日本の働く女性について、年齢別にみてどのように変化しているか書きなさい。
- ② 2005年の日本とドイツの年齢別女性の働いている割合について、どのような違いがみられるか書きなさい。

資料 年齢別女性の働いている割合



(「労働力調査」などより作成)

7 祖父の生きてきた時代についての祖父と孫との会話を読んで、あとの問いに答えなさい。

孫 おじいちゃんが生まれた1937年は日中戦争がはじまった年ですね。  
 祖父 そうだよ。8歳の時、終戦となり、戦後しばらくは生活必需品の不足などで物価が上がり、生活がたいへんだったんだ。  
 孫 社会科の授業で、がを下回った時に物価が上がり、この状態が続くことをという習いました。  
 祖父 1951年に(a)サンフランシスコ平和条約が調印された時は、中学生だったよ。高校を卒業して就職したころから高度経済成長がはじまり、日本経済は急激に成長し、日本人の生活は豊かになっていったよ。  
 孫 お父さんは、(b)1960年代半ば、東京オリンピックが開かれた年に生まれました。  
 祖父 その年、わが家ではテレビを買ってオリンピックを見たよ。その後、1973年に石油危機があって、世界的に不況となり、高度成長は終わったんだ。そのころ、日本では65歳以上の高齢者の割合が7%を超え、その後どんどん(c)高齢化がすすんだよ。  
 孫 私は1994年生まれで、21世紀最初の年の2001年に小学校に入学しました。  
 祖父 その年のはじめに(d)中央省庁の再編が行われ、ほぼ現在のような組織になったよ。

(1) 文中の  ~  に入る適切な語を次のア~エからそれぞれ選び、記号を書きなさい。

ア 需要            イ 供給            ウ デフレーション            エ インフレーション

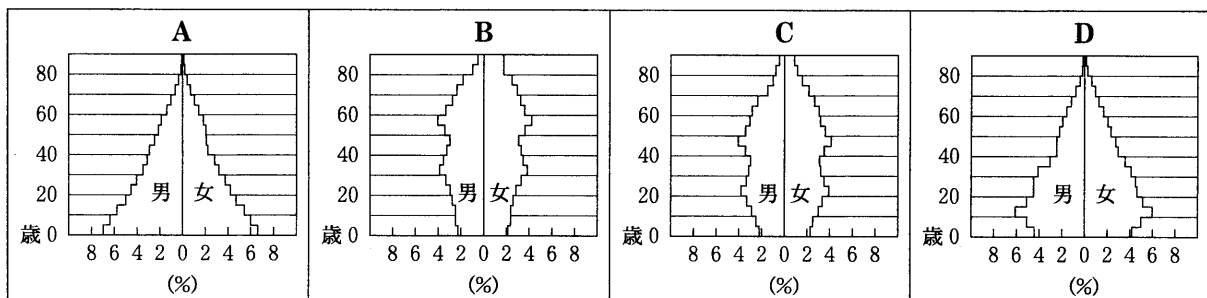
(2) (a)サンフランシスコ平和条約について、適切なものを次のア~エから1つ選び、記号を書きなさい。

- ア 条約には中華人民共和国も調印した。
- イ 条約調印の同日、日米安全保障条約が結ばれた。
- ウ 条約によって、ソ連との国交が回復して、国際連合に加盟した。
- エ 条約によって、アメリカの占領下にあった沖縄が日本に返還された。

(3) (b)1960年代のできごととして、適切でないものを次のア~エから1つ選び、記号を書きなさい。

- ア 朝鮮戦争による特需によって好景気をむかえた。
- イ 東海道新幹線や日本で最初の高速道路が開通した。
- ウ 公害が深刻化したため、公害対策基本法が制定された。
- エ 国民総生産が資本主義国で第2位になった。

(4) (c)高齢化に関連して、次の資料のA~Dは、それぞれ1935年、1960年、1995年、2005年のいずれかの日本の年齢階級別人口構成を表したものである。A~Dを年代の古い順に並べなさい。



(日本国勢図会 2007/08, 1997/98)

(5) (d)中央省庁の再編が行われ、ほぼ現在のような組織になったことについて、現在の中央省庁に関する次の文中の ,  に入る適切な語を書きなさい。

省は、国土の総合的、体系的な利用・開発・保全、そのための社会資本の総合的な整備、交通政策の推進などを担っている。

省は、健全な財政の確保、適正かつ公平な課税の実現、税関業務の適正な運営、国庫の適正な管理、通貨に対する信頼の維持などを担っている。

# 検査1 社会 解答例

1	(1)	記号	い	県庁所在地名	盛岡	
	(2)	日本海流				
		暖流 寒流				
	(3)	複雑に入り組んでいる。				
(4)	A	宮城	県	B	兵庫	県
	C	神奈川	県	D	宮崎	県
2	(1)	3月10日午後2時				
	(2)	ウ				
	(3)	①	A			
		②	気温が高く、降水量が少ない。			
	(4)	エネルギーを得る方法として、環境にやさしい風力発電を重視しているから				
(5)	アルプス・ヒマラヤ					
3	(1)	インドから中国を経て、朝鮮半島から渡来人らによってもたらされた。				
	(2)	X群	ア	Y群	エ	
	(3)	1	倭寇			
		2	勤合			
	(4)	バスコ・ダ・ガマ				
(5)	イ					
4	(1)	①	ア	ウ		
		②	満20歳以上の男子に兵役を義務づけた。			
		③	領事裁判権の撤廃			
	(2)	①	エ → イ → ウ → ア			
		②	イ			
(3)	ウ	エ				
(4)	この期間は好景気であり、生産総額も増える中、工業生産の割合が増え約56%となった。また、貿易が飛躍的に伸び、輸出が輸入を上回っていた。					

5	(1)	X	議院内閣				
		Y	内閣不信任				
		Z	解散				
	(2)	法律や国の行為が憲法に違反していないかどうかを最終的に判断する権限をもっているから。					
	(3)	工					
(4)	1	控訴					
	2	上告					
(5)	裁判員制度						
6	(1)	労働基準					
	(2)	(a)	団結権				
		(b)	団体交渉権				
	(3)	①	1985年より2005年では、25~34歳の働く女性の割合が特に増えている。				
		②	ドイツは日本より、30~50歳代の働く女性の割合が高い。				
(4)							
7	(1)	X	イ	Y	ア	Z	エ
	(2)	イ					
	(3)	ア					
	(4)	A → D → C → B					
	(5)	1	国土交通				
2		財務					