

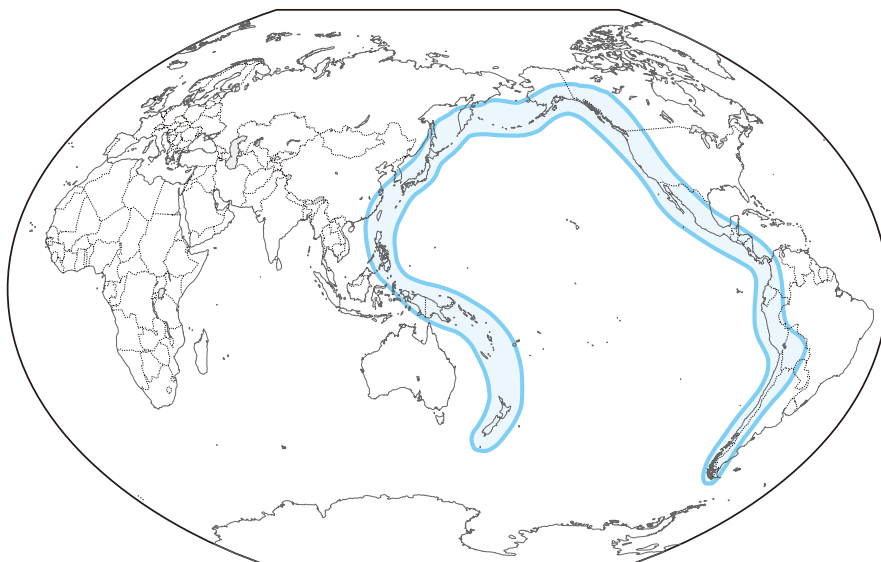
- ① 2008年から「富士登山ブーム」が続いています。2009年も約30万人が登山に訪れたそうです。富士山は言うまでもなく日本一の高さの山です。これにちなんで「日本一」を集めてみました。これを読んで、あとの問に答えなさい。

(1) 日本一広い平野……関東平野

関東地方の主要部を占める日本最大の平野です。北は阿武隈高地などの山地や、①那須火山帯に属する火山群により、西は関東山地によって限られています。河川の多くは北部と西部の山地から発して、平野を東または南東へ向かって流れ、太平洋と東京・相模両湾へ流れこんでいます。これらの河川は、それぞれの流域に台地と沖積低地をつくっています。台地は火山灰土におおわれていて、水もちが悪く水田に適さないため、主に畑作が行われています。

関東平野は江戸に幕府の拠点がおかれてから大きく変化しました。江戸が世界有数の大都市に発展したことにより、関東平野を流れる川の下流の三角州や台地の新田開発が盛んとなり、江戸時代にはタバコ・かんぴょうなどの生産や、絹織物業・②しょうゆ造りなどがおこりました。

- 〔問1〕下線部①に関連して、日本をはじめ、台湾・フィリピン・北アメリカ大陸のロッキー山脈・南アメリカ大陸のアンデス山脈を含む下の地図の 部^{ぶく}の造山帯（火山帯）を何というか、解答らんに合わせて答えなさい。



〔問2〕下線部②に関連して、しょうゆの生産量が多い千葉県の自然・産業と人々の暮らしについての説明として、誤っているものを次のア～エより1つ選び、記号で答えなさい。

- ア. ネギ・ほうれんそう・さつまいも・らっかせい・日本なしなどを生産し、県の南部では花の栽培を行っている。また酪農が盛んで、主に首都圏に出荷している。
- イ. 鉄道や自動車道路の整備が進み、ベッドタウンとして多くの住宅が建設されている。また東京湾岸では新都心として企業やショッピングモールが進出している。
- ウ. 東京湾沿いに京葉工業地域が広がっており、主に自動車の生産やよう業が行われている。また首都圏で消費される電気を発電するため、原子力発電所が点在している。
- エ. 県の北部には利根川が流れていて、川沿いの平野では稲作が盛んに行われている。太平洋に注ぐ河口には、いわし等をはじめ、水揚げ量が全国有数の漁港がある。

(2) 日本一大きな湖…… ③

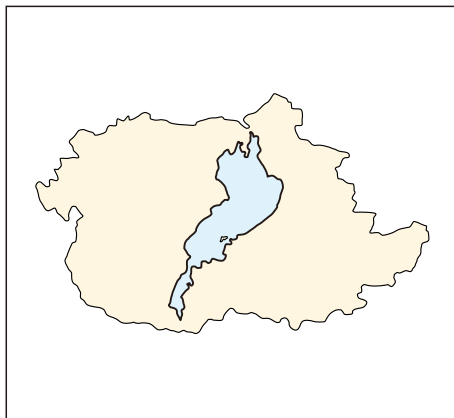
③ から流れ出る水は瀬田川・宇治川・淀川と名前を変えて大阪湾へ至ります。また湖水は京都などの上水道として利用されています。湖を取り囲む山地からの流れが源流で、京阪神の水がめという機能を果たしています。古くから水上交通路としても利用されていて、明治時代に鉄道が開通するまでは、京都や大阪から東日本・北陸への物資輸送に利用されていました。

③ は昭和の初期まで多くの生物を育てていました。しかし1943年から始まった下流の平野を洪水から守るための工事により、工事終了の1952年までに平均水位が数10cm低下しました。また、湖の一部が干拓されたこともあって③の自然は大きく変化し、生態系などが大きく損なわれてしまいました。このため④県は独自に条例を制定して、生態系の回復や水質の浄化に努めています。

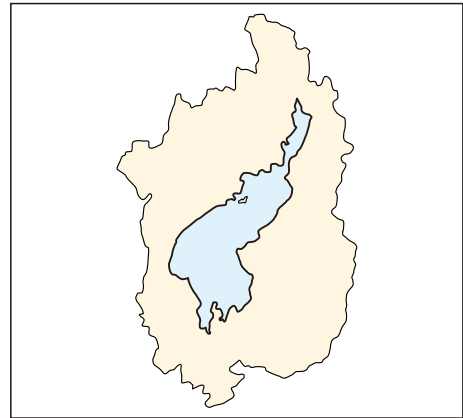
〔問3〕 ③ について、以下の各問に答えなさい。

(1) 湖と県を正しく示した地図を次のア～エより1つ選び、記号で答えなさい。

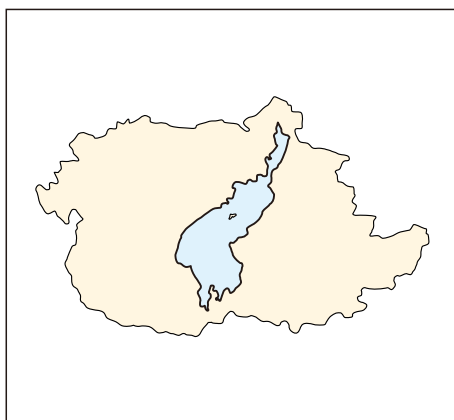
ア



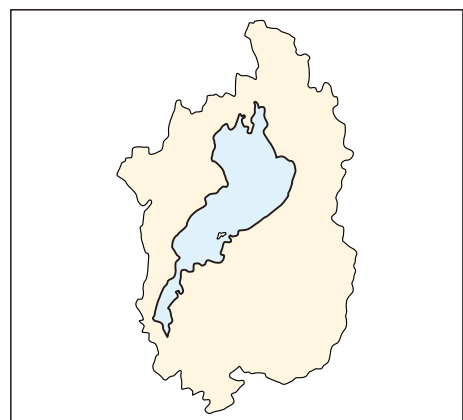
イ



ウ



エ



(2) ③ は1993年に「特に水鳥の生息地として国際的に重要な湿地に関する条約」に登録された。この条約は結ばれた場所の名称をとって何と呼ばれているか、名称を解答らんに合わせて答えなさい。

〔問4〕下線部④に関連して、条例の制定・改廃を求めることは地方自治における直接請求権にあたる。以下の表は請求の内容と必要署名数・請求先を示したものである。誤っているものを次のア～エより1つ選び、記号で答えなさい。

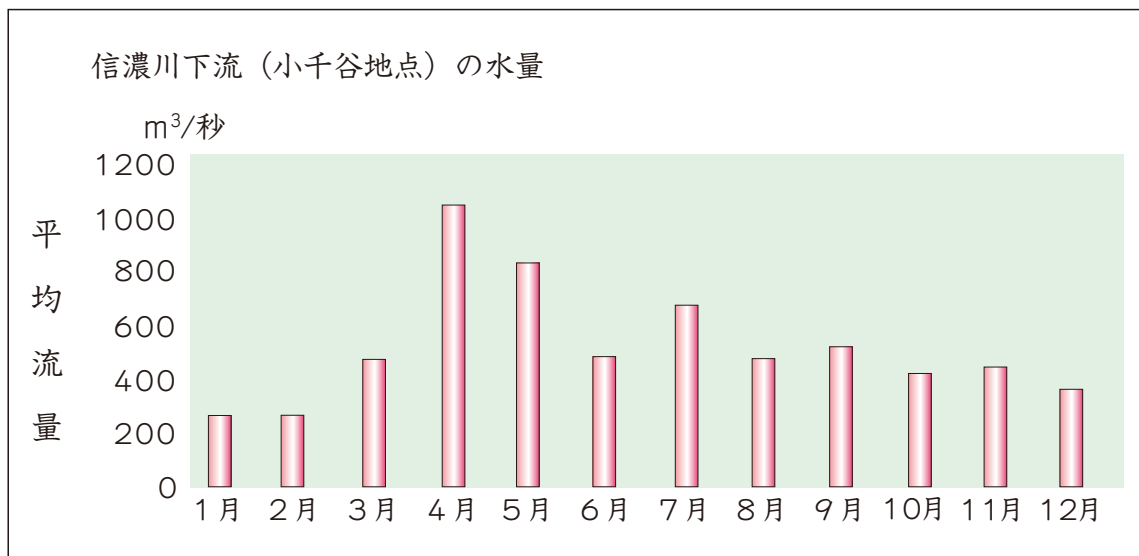
| | 請求内容 | 必要な署名数 | 請求先 |
|---|------------|------------|---------|
| ア | 議会の解散請求 | 有権者の1／3以上 | 議長 |
| イ | 条例の制定や改廃 | 有権者の1／50以上 | 首長 |
| ウ | リコール(解職請求) | 有権者の1／3以上 | 選挙管理委員会 |
| エ | 監査請求 | 有権者の1／50以上 | 監査委員 |

(3) 日本一長い川……^{しなの}信濃川

新潟県および長野県を流れる一級河川です。このうち信濃川と呼ばれているのは新潟県内のみで、長野県内では千曲川と呼び名が変わります。全長367キロメートルのうち、信濃川と呼ばれている部分が153キロメートルなのに対し、千曲川と呼ばれている部分は214キロメートルで、千曲川の方が長くなっています。ただし、河川法上では千曲川を含めた信濃川水系の本流を信濃川と規定しているため、信濃川は日本で一番長い川となっています。

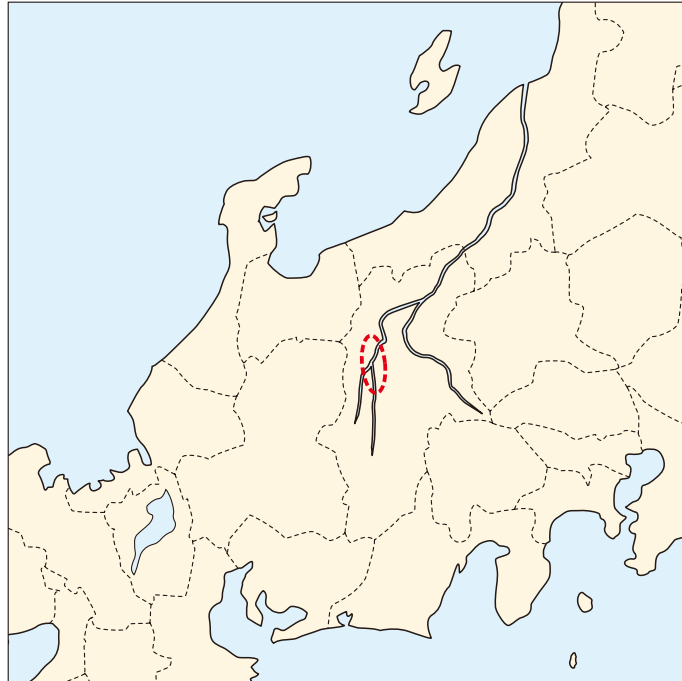
千曲川（信濃川）は古くは万葉のころから多くの詩歌に歌われ、近代になって^{しまざき}島崎^{とうそん}藤村や^{たつゆき}高野辰之が歌にし、日本人がふるさとに^{なつ}懐かしさを感じるような情景の川としても知られています。

〔問5〕 次のグラフは信濃川の水量を月ごとに示したものである。この表から水量の変化を読み取り、4月と5月に信濃川の水量が多くなる理由として考えられることを説明しなさい。



(インターネットサイト 信濃川下流河川事務所 データで見る信濃川より)

〔問6〕 次の地図は信濃川の流れを表したものである。地図中の()で示された盆地の名称として正しいものを下のア～エより1つ選び、記号で答えなさい。




- ア. 甲府盆地 イ. 松本盆地 ウ. 米沢盆地 エ. 上川盆地

（４）日本一高い山……富士山

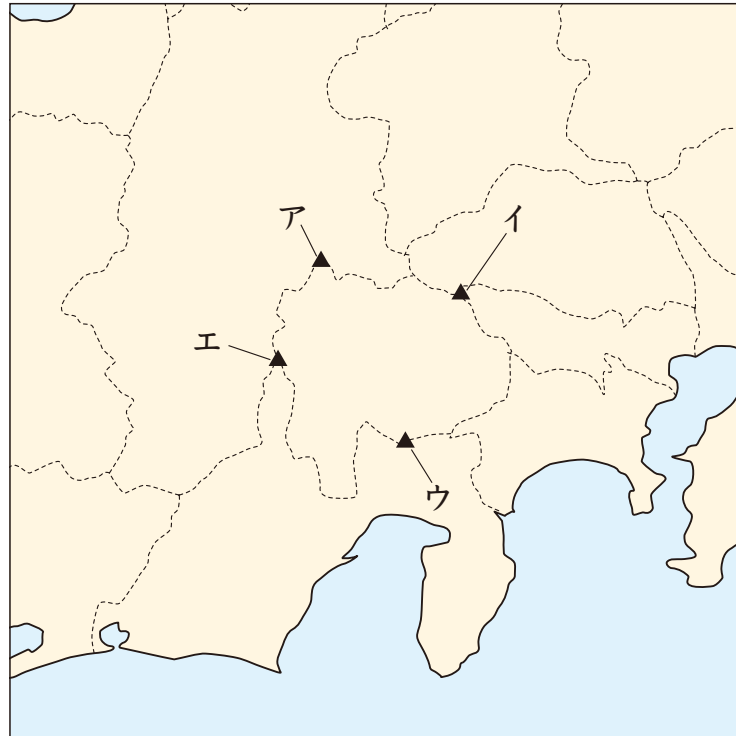
⑤ 富士山は、日本列島の中央部に位置しており、古くから東西を行き来する人々が時には遠くから、時には間近に仰ぎ見てきました。標高3,776mという日本一の高さを誇るこの円錐形の成層火山が海から緩やかに立ち上がり、そのまま遥かな高みに達するさまは、昔から旅人を感動させずにはおきませんでした。（中略）また、富士山の恵みは自らの周囲にわき水などの豊かな自然を育んでいます。山麓地区に見られる土地利用の様子は、自然と人間の共生を継承していること、そして現在も人々は富士山によって生かされていることを物語っています。

インターネットサイト「富士山を世界遺産にする国民会議」を一部改変

〔問7〕下線部⑤に関連して、次の地図には日本を東北日本と西南日本の2つに大きく分けている大きな溝（線部）が見える。これを何というか、カタカナで答えなさい。



〔問8〕富士山の位置として正しいものを下の地図中のア～エより1つ選び、記号で答えなさい。



〔問9〕富士山の主として北側に位置する県は、ぶどうとももの生産量が日本一となっている。では、ぶどうやももの栽培に適した条件として誤っているものを次のア～エより1つ選び、記号で答えなさい。

- | | |
|---|-------------------|
| ア. 水はけがよい | イ. 年平均気温が10℃以下である |
| ウ. 昼と夜の寒 ^{かん} 暖 ^{だん} 差が激 ^{はげ} しい | エ. 日当たりがよい |

(5) 日本一高い気温……40.9℃

日本の気温の最高記録は、2007年8月16日に岐阜県多治見市、また、同日
 ⑥ 埼玉県熊谷市で記録した40.9℃です。記憶に残っている人も多いことでしょう。
 気象庁ではその原因について、多治見は高気圧の中心付近が上空にあったため、熊
 谷は秩父山系を越える ⑦ 現象のためと分析しています。

⑦ 現象は山地が多い日本でもひんぱんに起きる現象です。湿った空気が山越
 えなどで下降気流になり、それにとまなう乾燥した熱風によって山岳の風下側で高温
 となるのもこの現象の一例です。

〔問10〕下線部⑥の「埼玉県熊谷市」は、いわゆる「平成の大合併」で再編された市
 である。では、市町村合併が進められた目的として正しいものを次のア～エよ
 り1つ選び、記号で答えなさい。

- ア. 地方自治体の権限をおさえ、中央集権を進めるため
- イ. 議員数を増やして、より多くの人々から意見を集めるため
- ウ. 人口が多い都市と少ない都市で行政のサービスに差をつけるため
- エ. 地方公共団体の自治能力を高め、地域を活性化させるため

〔問11〕空らん ⑦ にあてはまる語句として正しいものを、次のア～エより1つ選び、
 記号で答えなさい。

- ア. フェーン
- イ. ヒートアイランド
- ウ. Uターン
- エ. ドーナツ化

② 各時代の経済政策についてA～Fの文章を読んで、あとの問に答えなさい。

【A】

アメリカのサブプライムローン問題が原因となり、リーマン・ブラザーズ社が破たんしました。それをきっかけに世界の経済情勢は世界同時不況とも呼ばれる状態に陥りました。また、日本もその影響を受けたため、麻生太郎①内閣は②様々な経済政策を打ち出しました。

【B】

貨幣経済の発達に伴って、③両替商が発達しました。また、老中の田沼意次は、商人の経済力を利用するため、《X》を積極的に認め、税を取り立てました。田沼の次に寛政の改革を行った老中の《Y》は、農村を立て直すため、江戸に出稼ぎに来ていた農民たちに資金を与えて村に帰す政策を行いました。

【C】

織田信長は、人々の自由な経済活動を盛んにするため、交通税をとっていた関所を廃止しました。また、④の城下町には、⑤商工業者の市場税を免除し、座の特権を排除するという政策を行いました。この政策の影響もあって、この城下町には多くの人が訪れ、大いににぎわったと言われています。

【D】

二度にわたる元などの大軍の襲撃をしのいだものの、幕府は御家人に十分なほうびを与えることができませんでした。このため、御家人は非常に貧しくなりました。幕府は、貧しい⑥御家人を救済するため、永仁の徳政令を発布しました。この結果、

⑦

【E】

幕府の財政を豊かにするため、⑧日明貿易による利益を独占しようと考えた足利義満は、勘合を利用した形式での貿易を開始しました。この貿易によって、明から輸入された陶磁器や絹織物などは「唐物」と呼ばれて珍重されました。これらの「唐物」は、日本国内で高額で取引されたと言われています。

【F】

政府は国の財政を安定させるため、これまでの税の取り立て方式を変更して
 ⑨ を実施し、土地の所有者に⑩ 地価の3%に当たる税を納めさせました。しかし、
 農民の負担はこれまでとほとんど変わらなかったため、各地では反対一揆が起こり、
 税率は2.5%に引き下げられました。

〔問1〕下線部⑩の「内閣」の役割として誤っているものを次のア～エより1つ選び、
 記号で答えなさい。

- ア. 予算案を作成し、国会に提出する
- イ. 外国と条約を結び、外交関係を処理する
- ウ. 憲法・法律の規定を実施するため、政令を制定する
- エ. 証人の出頭などを求める、国政調査権を持っている

〔問2〕下線部⑨の「様々な経済政策」について、物価高などによる家計圧迫への対
 応として麻生内閣と最も関係のある政策を、次のア～エより1つ選び、記号で
 答えなさい。

- ア. 定額給付金の給付
- イ. 地域振興券の発行
- ウ. 高速道路の無料化
- エ. 公共料金の値下げ

〔問3〕下線部③の「両替商」が主に使用した道具の名称とその使用方法の組み合わせとして、正しいものを下のア～エより1つ選び、記号で答えなさい。

a



b



- ア. aは「京枅」といい、炭の量をはかるために使用された。
 イ. aは「木簡」といい、商品を収納するために使用された。
 ウ. bは「天秤」といい、銀などの貨幣の重さをはかるために使用された。
 エ. bは「日時計」といい、時刻を正確に伝えるために使用された。

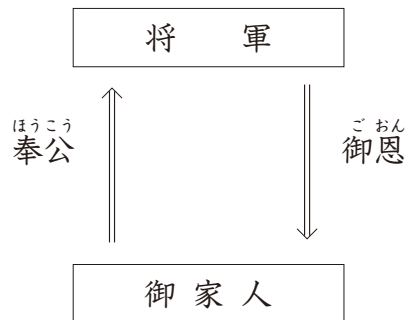
〔問4〕空らん《 X 》、《 Y 》にあてはまる語句の組み合わせとして正しいものを次のア～エより1つ選び、記号で答えなさい。

- ア. X－株仲間 Y－松平定信
 イ. X－座 Y－水野忠邦
 ウ. X－株仲間 Y－水野忠邦
 エ. X－座 Y－松平定信

〔問5〕空らん にあてはまる城の名称を解答らんに合わせて答えなさい。

〔問6〕下線部⑤の政策を何というか答えなさい。

〔問7〕下線部⑥の「御家人」は、土地をなかだちとして下の図のように将軍と主従関係を結んでいた。このような関係によって成り立っている制度を何と
 いうか、解答らんに合わせて答えなさい。



〔問8〕空らん⑦にあてはまる文章として正しいものを次のア～エより1つ選び、
 記号で答えなさい。

- ア. 御家人のみが救済されたため、幕府に対して不満をつのらせた商人らにより、大規模な一揆が起きました。
- イ. かえって社会は混乱したため、御家人は幕府への不満をつのらせ、この幕府が減びる一因にもなりました。
- ウ. 御家人の生活は豊かになり、幕府は信頼を取り戻し、その後100年以上権力を保ちました。
- エ. 御家人の権力が高まり、強大な武力を持った御家人の中から多くの戦国大名が出現しました。

〔問9〕下線部⑧の「日明貿易」で日本へ輸入された貨幣として正しいものを次のア～エより1つ選び、記号で答えなさい。



〔問10〕空らん⑨にあてはまる語句として正しいものを次のア～エより1つ選び、

記号で答えなさい。

ア. 班田収授

イ. 太閤検地

ウ. 農地改革

エ. 地租改正

〔問11〕下線部⑩の「地価の3%に当たる税」は、何で納めたか。正しいものを次の

ア～エより1つ選び、記号で答えなさい。

ア. 布

イ. 現金

ウ. 特産物

エ. 米

〔問12〕A～Fの各文章を時代の古い順に並べかえたとき、3番目にくるものはどれ

か、A～Fより1つ選び、記号で答えなさい。